

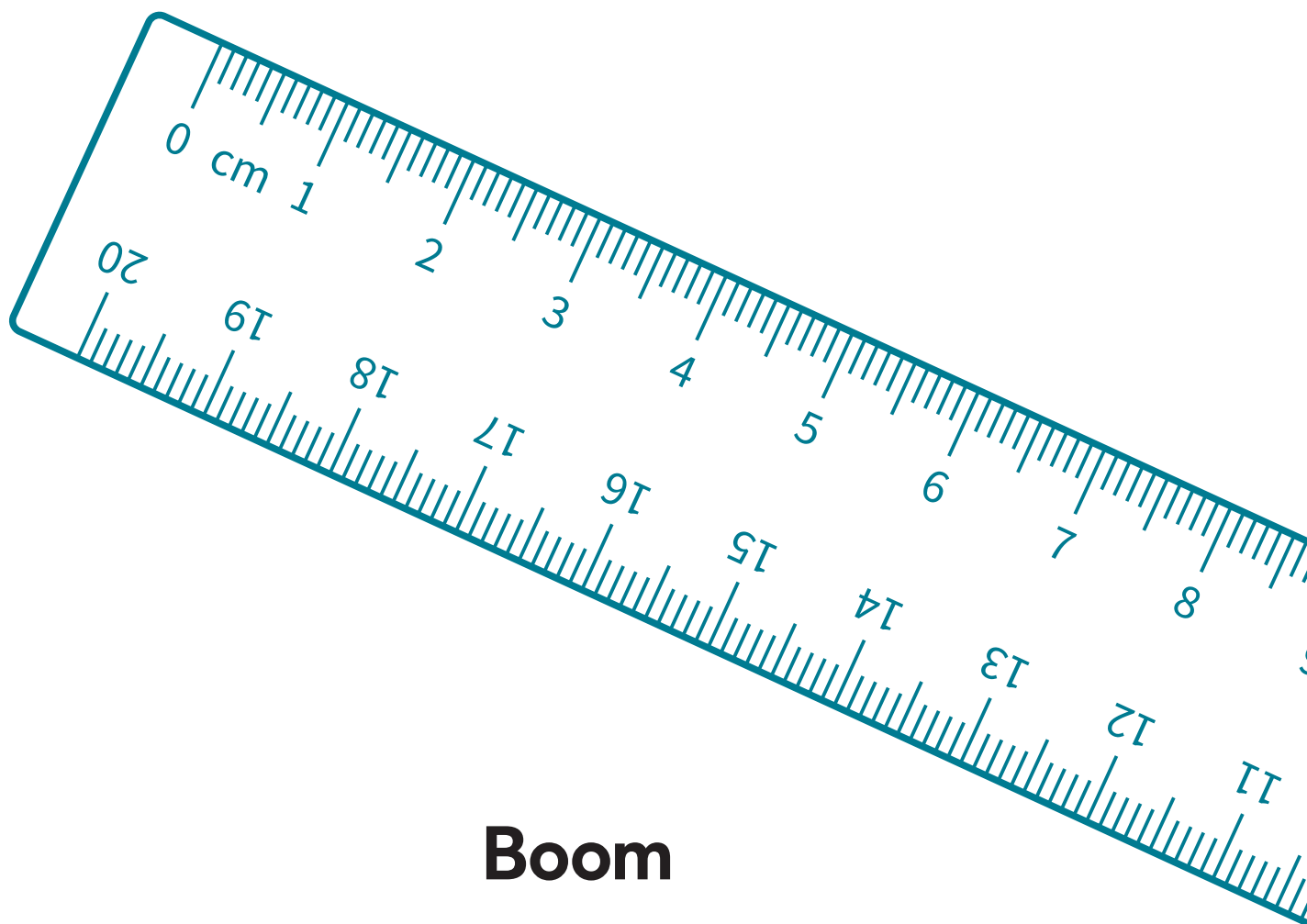
WISK-Y

ISK ROUTE 3

TOETS 6

Naam: _____

Klas: _____



Boom

**1. Vul in.**

Zijn de getallen even of oneven?

	getal	even / oneven
a.	1123	
b.	103	
c.	900	
d.	344	
e.	1	

**2. Vul in.**

Halveer en verdubbel de getallen.

	getal	het dubbele	de helft
a.	4	8	2
b.	25		
c.	120		
d.	84		

**3. Kijk naar de rij getallen en beantwoord de vragen.**





17	9	8	98	102	6	4	80	13	7	78	16	92
----	---	---	----	-----	---	---	----	----	---	----	----	----

- Welk getal uit de rij is het kleinste even getal? _____
- Welk getal is het grootste oneven getal in de rij? _____
- Welk getal staat vooraan in de rij? _____
- Welk getal staat achteraan in de rij? _____
- Welk cijfer is het dubbele van het middelste getal in de rij? _____
- Hoeveel even getallen staan er in de rij? _____
- Zet een cirkel om een priemgetal uit de rij. _____



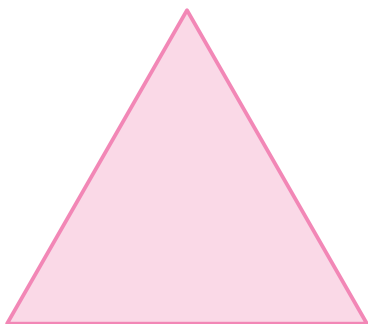
4. Vul in.

Zijn de figuren lijnsymmetrisch, draaisymmetrisch of beide?

figuur	lijnsymmetrisch	draaisymmetrisch
a. 	x	-
b. 		
c. 		
d. 		



5. Bereken de kleinste draaihoek van de figuren.



a. kleinste draaihoek: _____

b. kleinste draaihoek: _____



6. Hoe laat is het op de klokken?

Schrijf de tijd in letters.



a. *twaalf uur*



b. _____



c. _____



d. _____



e. _____



7. Reken uit.

a. Joop gaat sporten. Hij begint om 9:23 uur.
Na 47 minuten stopt hij met sporten. Hoe laat is het dan?

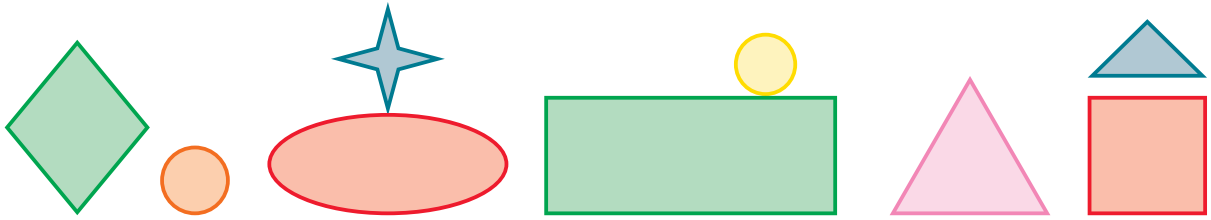
10:10 uur

b. Aicha gaat fietsen. Ze vertrekt om 13:23 uur.
Na 20 minuten fietsen houdt ze pauze.
De pauze duurt 15 minuten. Daarna fietst ze nog 40 minuten,
dan is ze thuis. Hoe laat is Aicha weer thuis?

c. Chao Feng vertrekt om 15:13 uur vanaf school.
Hij komt om 16:20 uur thuis. Hoe lang was Chao Feng onderweg?

d. Om 17:45 vertrekt de trein naar Haarlem.
Teun is om 17:28 uur op het station.
Hoe lang moet Teun wachten?

 **8. Kijk naar het plaatje en geef antwoord op de vragen.**




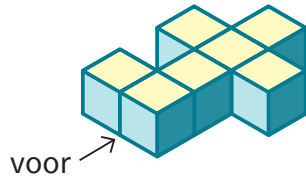
- a. Welk figuur staat tussen de grote groene rechthoek en het rode vierkant?
- b. Welk figuur staat links naast de rode ellips?
- c. Welk figuur staat op de grootste rechthoek?
- d. Welk figuur staat onder de ster?
- e. Welk figuur staat rechts naast de groene ruit?

 **9. Vul in.**
Schrijf je antwoord in letters.


- a. Welk getal staat voor 1003?
- b. Welk getal staat tussen 5,19 en 5,21?
- c. Welk getal staat achter 78?
- d. Welk getal staat tussen 1,123 en 1,125?
- e. Welk getal staat tussen 29,90 en 30,00?



10. Teken de aanzichten.



a. vooraanzicht



b. rechter zijaanzicht



c. bovenaanzicht