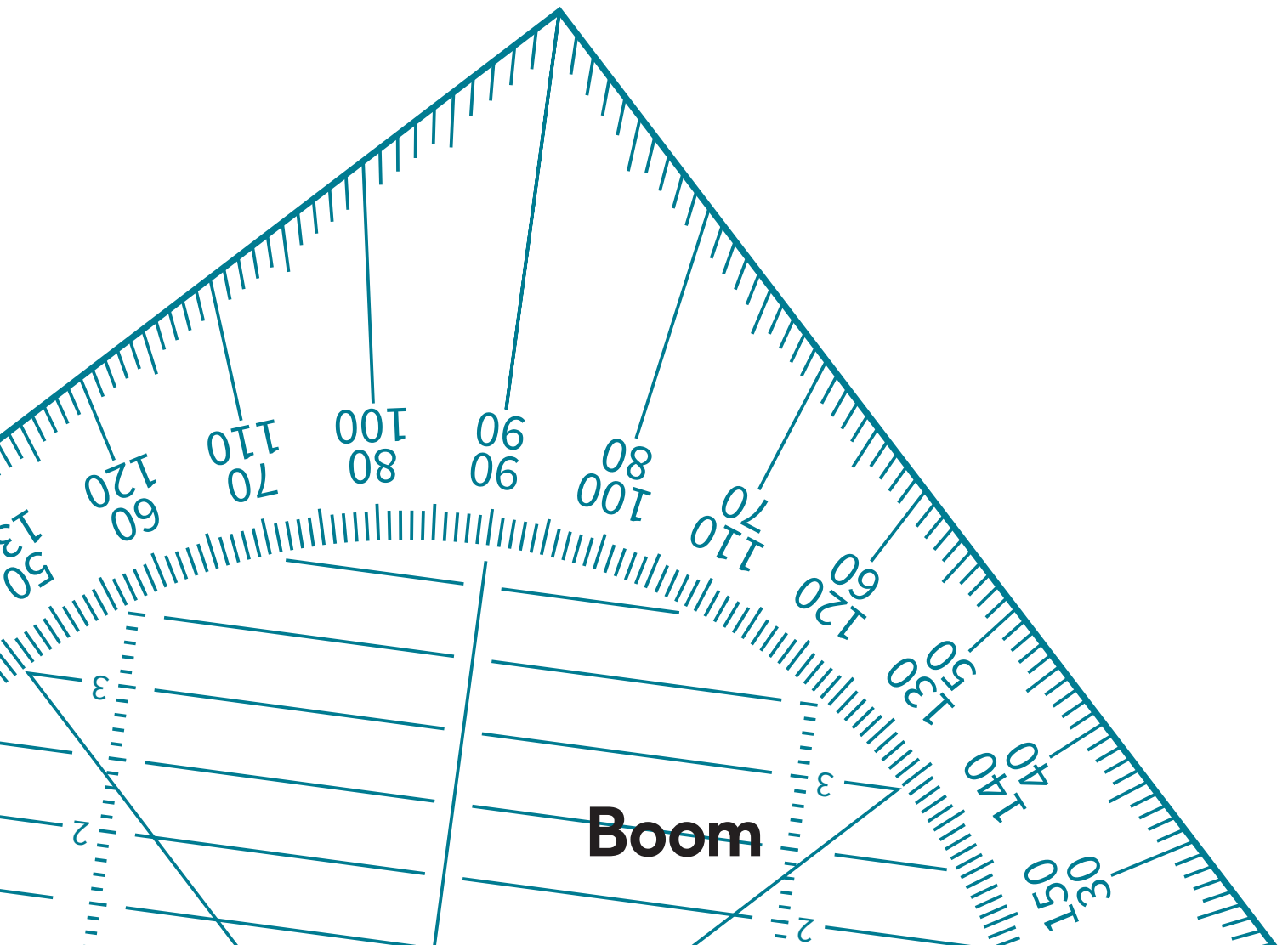


# WISK-X

ISK ROUTE 1 EN 2

TOETS 6



 1. Vul in.

	getal	even / oneven
a.	3	
b.	10	
c.	4	
d.	9	
e.	1	

 2. Vul in.

Halveer en verdubbel de getallen.

	getal	het dubbele	de helft
a.	4	8	2
b.	12		
c.	8		
d.	2		

 3. Kijk naar de rij getallen en beantwoord de vragen.




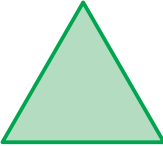
1	5	12	14	6	2	3	8	13	10	7	9	20
---	---	----	----	---	---	---	---	----	----	---	---	----

- a. Welk getal uit de rij is het kleinste even getal? \_\_\_\_\_
- b. Welk getal is het grootste oneven getal in de rij? \_\_\_\_\_
- c. Welk cijfer staat vooraan in de rij? \_\_\_\_\_
- d. Welk getal staat achteraan in de rij? \_\_\_\_\_
- e. Welk cijfer staat in het midden? \_\_\_\_\_
- f. Hoeveel even getallen staan er in de rij? \_\_\_\_\_



#### 4. Vul in.

Zijn de figuren lijnsymmetrisch, draaisymmetrisch of beide?

figuur	lijnsymmetrisch	draaisymmetrisch
a. 	x	-
b. 		
c. 		
d. 		



#### 5. Hoe laat is het op de klokken?

Schrijf de tijd in letters.



a.

*twalf uur*



b.

\_\_\_\_\_

c.

\_\_\_\_\_



d.

\_\_\_\_\_



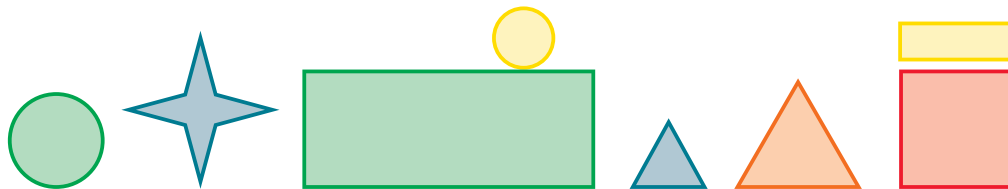
e.

\_\_\_\_\_

? 😊 **6. Reken uit en vul in.**

- a. De trein uit Meppel vertrekt om 12:00 uur.  
47 minuten later is de trein in Heerenveen.  
Hoe laat is de trein in Heerenveen? 12:47 uur
- b. Josje gaat lopen. Ze vertrekt om 13:00 uur.  
Om 14:00 uur is ze weer terug. Hoe lang heeft Josje gelopen? \_\_\_\_\_
- c. Luca stapt om 08:30 uur op de fiets, hij gaat naar school.  
Om 9:00 uur is Luca op school. Hoe lang heeft hij gefietst? \_\_\_\_\_
- d. Om 17:45 vertrekt de bus naar Rolde.  
Het is nu 17:40 uur. Hoe lang moet je wachten op de bus? \_\_\_\_\_

? 😊 **7. Kijk naar het plaatje en geef antwoord op de vragen.**



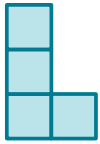
- a. Welk figuur staat tussen de groene cirkel en de groene rechthoek? \_\_\_\_\_
- b. Welk figuur staat links naast de ster? \_\_\_\_\_
- c. Welk figuur staat op de grootste rechthoek? \_\_\_\_\_
- d. Welk figuur staat onder de gele rechthoek? \_\_\_\_\_
- e. Welk figuur staat rechts naast de blauwe driehoek? \_\_\_\_\_

😊 ✎ **8. Vul in.**

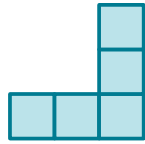
Schrijf je antwoord in letters.

- a. Welk getal staat voor 100? \_\_\_\_\_
- b. Welk getal staat tussen 3 en 5? \_\_\_\_\_
- c. Welk getal staat achter 12? \_\_\_\_\_
- d. Welk getal staat tussen 16 en 18? \_\_\_\_\_
- e. Welk getal staat achter 1? \_\_\_\_\_

9. Welk figuur hoort bij de aanzichten?




vooraanzicht



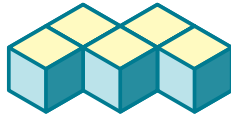
rechter zijaanzicht



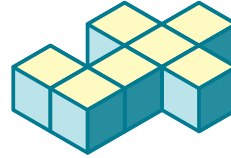
bovenaanzicht



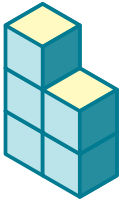
A



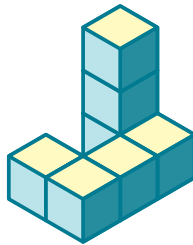
B



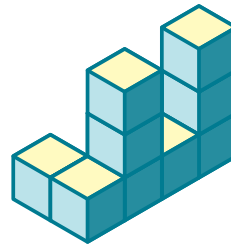
C



D



E



F